



Name \_\_\_\_\_ Vorname \_\_\_\_\_ Verein \_\_\_\_\_

Punktzahl Rhythmik / Gehörbildung

Prüfungsteil Rhythmik

Gesamtpunktzahl Rhythmik & Gehörbildung 60 / Mindestpunktzahl 36

Aufgabe 1

mögliche Punktzahl

④

Welches der notierten **Rhythmusmuster** erklingt?

Kreuzt dieses einfach an.

erreichte Punktzahl

Ihr müsst euch immer sofort entscheiden, denn jede Aufgabe ist nur **einmal** zu hören.

①			
②			
③			
④			

Aufgabe 2

mögliche Punktzahl

④

Die metrischen Nebenimpulse.

Weisen die rhythmischen Motive eine **Zweiteilung** oder eine **Dreiteilung** auf?

Jede Aufgabe ist **einmal** zu hören.

	Zweiteilung ↓	Dreiteilung ↓
①	<input type="checkbox"/>	<input type="checkbox"/>
②	<input type="checkbox"/>	<input type="checkbox"/>
③	<input type="checkbox"/>	<input type="checkbox"/>
④	<input type="checkbox"/>	<input type="checkbox"/>

erreichte Punktzahl

Aufgabe 3

mögliche Punktzahl

④

**Rhythmisches Motivgedächtnis.**

Jede Aufgabe beginnt mit einem rhythmischen Motiv.

Nach einer **längeren Pause** ertönt ein zweites Motiv.

**Entspricht** das zweite Motiv dem ersten?

Oder gibt es **Unterschiede** zwischen den beiden Motiven?

Jede Aufgabe ist **einmal** zu hören.

	gleich ↓	ungleich ↓
①	<input type="checkbox"/>	<input type="checkbox"/>
②	<input type="checkbox"/>	<input type="checkbox"/>
③	<input type="checkbox"/>	<input type="checkbox"/>
④	<input type="checkbox"/>	<input type="checkbox"/>

erreichte Punktzahl

### Aufgabe 4

#### Tempowahrnehmung

Bei jeder Aufgabe hört ihr eine rhythmische Phrase.  
Ihr sollt bestimmen, ob der eingespielte Rhythmus **schneller** oder **langsamer** wird oder im Tempo **konstant** bleibt.  
Jede Aufgabe ist **einmal** zu hören.

	schneller	langsamer	konstant
①			
②			
③			
④			
⑤			

mögliche Punktzahl

5

erreichte Punktzahl

### Aufgabe 5

#### Rhythmische Fehleranalyse.


Vergleicht die gehörten Rhythmusphrasen mit dem abgedruckten Notenbild.  
Bei der ersten Aufgabe stimmt das Gehörte **an drei Stellen** nicht mit dem Notenbild überein.  
Bei der zweiten Aufgabe weicht das Gehörte **an zwei Stellen** vom Notenbild ab.  
Kreist diese **Abweichungen** ein.  
Jede Aufgabe ist **zweimal** zu hören.

mögliche Punktzahl


5

erreichte Punktzahl

①



②



### Aufgabe 6


#### Rhythmusdiktat.

Dieses Rhythmusdiktat besteht aus drei Takten.  
In den beiden freien Takten sollt ihr die Notenwerte vervollständigen.  
Jede Aufgabe ist **viermal** in ihrer ganzen Länge zu hören.

mögliche Punktzahl

8

erreichte Punktzahl



Mögliche Punktzahl im Lernfeld Rhythmik

30

erreichte Punktzahl im Lernfeld Rhythmik

Aufgabe 1





**Versetzungszeichen ergänzen**

Jede Melodie hat ihre eigenen Versetzungszeichen, sie fehlen aber im Notenbild. Schreibt die passenden Versetzungszeichen **vor die jeweilige Note**. Jede Aufgabe ist **zweimal** zu hören.

mögliche Punktzahl

②

erreichte Punktzahl



Aufgabe 2

**Tonhöhenunterschiede.**

Bei jeder Aufgabe erklingen **zwei** Töne.  
Ihr sollt bestimmen, ob der zweite Ton **tief**, **gleich**  
oder **höher** als der zuerst gehörte Ton ist.  
Jede Aufgabe ist **einmal** zu hören.

	tief	gleich	höher
①			
②			
③			
④			

mögliche Punktzahl

②

erreichte Punktzahl

Aufgabe 3

**Dur- und Molltonleitern hören.**

Bei jeder Übung erklingt eine Tonleiter.  
Welche der angegebenen Tonleitern erklingt?  
Jede Tonleiter ist **einmal** zu hören.

	Durtonleiter	Moll: natürlich	Moll: harmonisch	Moll: melodisch
①				
②				
③				

mögliche Punktzahl

③

erreichte Punktzahl

Aufgabe 4

**Dur- und Molldreiklänge hören.**

Bei diesen Übungen geht es um das Hören von **Dreiklängen**.  
Zwei Akkordformen sind zu unterscheiden: **Dur** oder **Moll**.  
Jeder Dreiklang ist **zweimal** zu hören:  
Zuerst im Zusammenklang, dann die drei Töne nacheinander.

	Durakkord	Mollakkord
①		
②		
③		
④		

mögliche Punktzahl

②

erreichte Punktzahl

**Aufgabe 5**

mögliche Punktzahl

6

**Melodien ergänzen**

Im abgedruckten Notenbild fehlen **zwei** Töne. Schreibt die fehlenden Töne in das Notensystem und die eventuell erforderlichen **Vorzeichen** direkt vor die Note.

erreichte Punktzahl

Jede Aufgabe ist **zweimal** zu hören.

①	?	?	②	?	?	③	?	?
①	?	?	②	?	?	③	?	?

**Aufgabe 6**

mögliche Punktzahl

8

**Fünftonmotive schreiben**

Hier sind Fünftonmotive in **Dur oder Moll** zu hören. Der erste Ton ist vorgegeben, die restlichen vier sind zu ergänzen. Schreibt die eventuell erforderlichen **Vorzeichen** direkt vor die jeweilige Note.

erreichte Punktzahl

Jede Aufgabe ist **zweimal** zu hören.

①	②
①	②

**Aufgabe 7**

mögliche Punktzahl

7

**Intervalle hören**

Bei den ersten vier Intervallen geht es um die **räumliche Distanz** mit **gleicher** Klangcharakteristik.

Die letzten drei Intervalle bestimmen die **Terz: groß oder klein?** Jedes Intervall ist **zweimal**

erreichte Punktzahl

zu hören: zuerst im Zusammenklang, dann beide Töne nacheinander (**auf- und abwärts**).

Sekunde      Septime ↓            ↓ ①	Terz      Sexte ↓        ↓ ②	Quarte      Quinte ↓            ↓ ③	Terz      Sexte ↓        ↓ ④
kleine Terz      große Terz ↓            ↓ ⑤	kleine Terz      große Terz ↓            ↓ ⑥	kleine Terz      große Terz ↓            ↓ ⑦	

Mögliche Punktzahl im Lernfeld Gehörbildung

30

erreichte Punktzahl im Lernfeld Gehörbildung